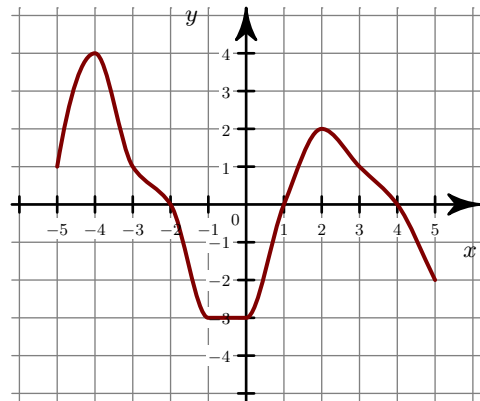
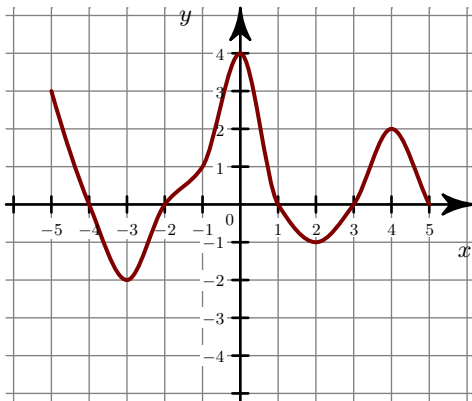
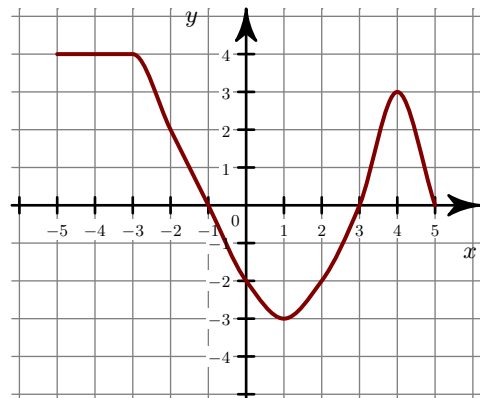
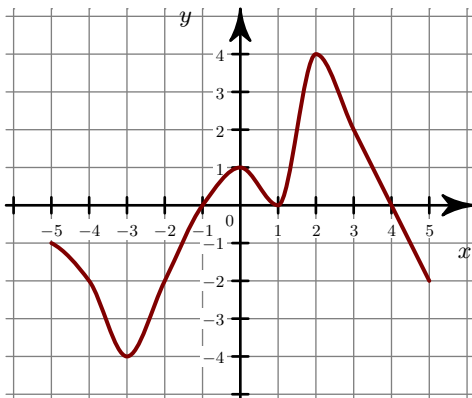


Exercice 1

- 1. Quel est le sens de variation de la fonction f ? Répondre par une phrase en précisant les intervalles.
 ►2. Tracer les tableaux de variation des fonctions f et g .

**Exercice 2**

- 1. Quel est le sens de variation de la fonction f ? Répondre par une phrase en précisant les intervalles.
 ►2. Tracer les tableaux de variation des fonctions f et g .

**Exercice 3**

- 1. Quel est le sens de variation de la fonction f ? Répondre par une phrase en précisant les intervalles.
 ►2. Tracer les tableaux de variation des fonctions f et g .

