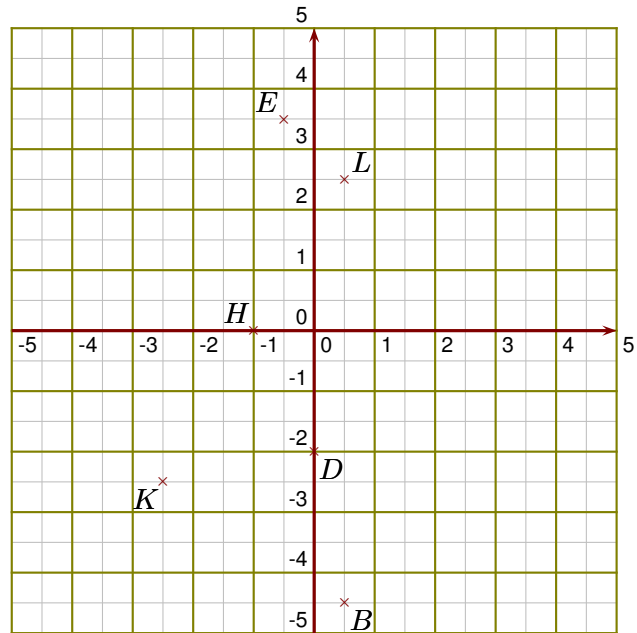
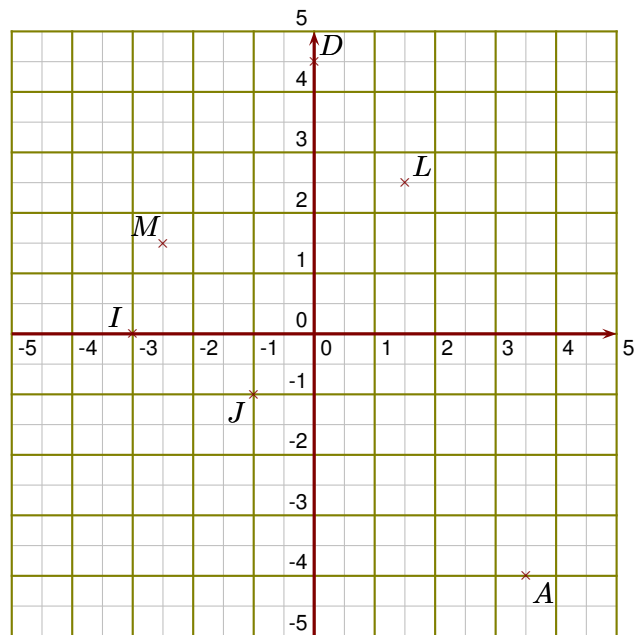


Exercice 1

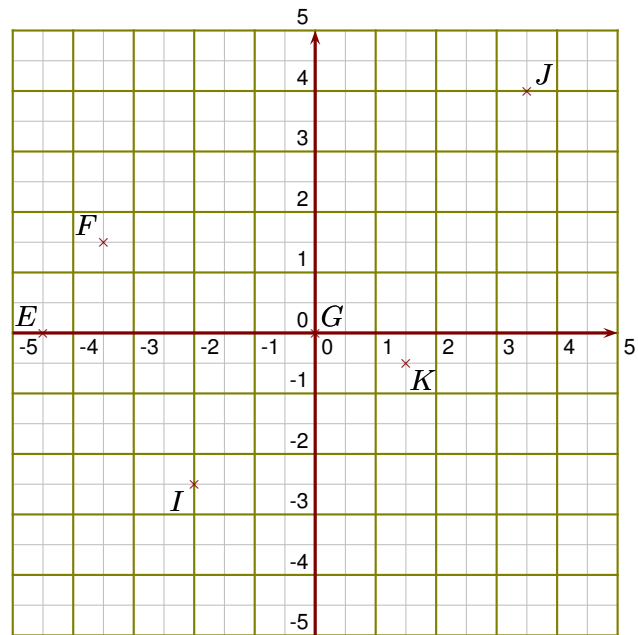
- ▶1. Donner les coordonnées des points B, D, E, H, K et L.
- ▶2. Placer dans le repère les points M, O, S, T, X et Y de coordonnées respectives $(-4 ; 0)$, $(2 ; -2,5)$, $(0 ; -1)$, $(-1,5 ; -4,5)$, $(2,5 ; 1)$ et $(-4,5 ; 3)$.
- ▶3. Placer dans le repère le point Z d'abscisse -1,5 et d'ordonnée 2,5

**Exercice 2**

- ▶1. Donner les coordonnées des points A, D, I, J, L et M.
- ▶2. Placer dans le repère les points N, Q, R, S, T et U de coordonnées respectives $(3 ; 0,5)$, $(-3 ; -4,5)$, $(4,5 ; 0)$, $(0 ; 3,5)$, $(-2 ; 0,5)$ et $(3 ; -1)$.
- ▶3. Placer dans le repère le point W d'abscisse -2 et d'ordonnée -2,5

**Exercice 3**

- 1. Donner les coordonnées des points E, F, G, I, J et K.
- 2. Placer dans le repère les points L, N, O, Q, U et V de coordonnées respectives $(-1,5 ; -1,5)$, $(0 ; -4)$, $(2,5 ; 0)$, $(-4 ; 2,5)$, $(1,5 ; -3)$ et $(2 ; 3,5)$.
- 3. Placer dans le repère le point X d'abscisse 2 et d'ordonnée -1,5



Exercice 4

- 1. Donner les coordonnées des points B, C, D, E, F et G.
- 2. Placer dans le repère les points J, L, M, R, S et T de coordonnées respectives $(-1 ; 4,5)$, $(4 ; -1,5)$, $(0 ; 2)$, $(2 ; 0)$, $(1,5 ; 4)$ et $(-0,5 ; -1,5)$.
- 3. Placer dans le repère le point W d'abscisse 2 et d'ordonnée -2,5

