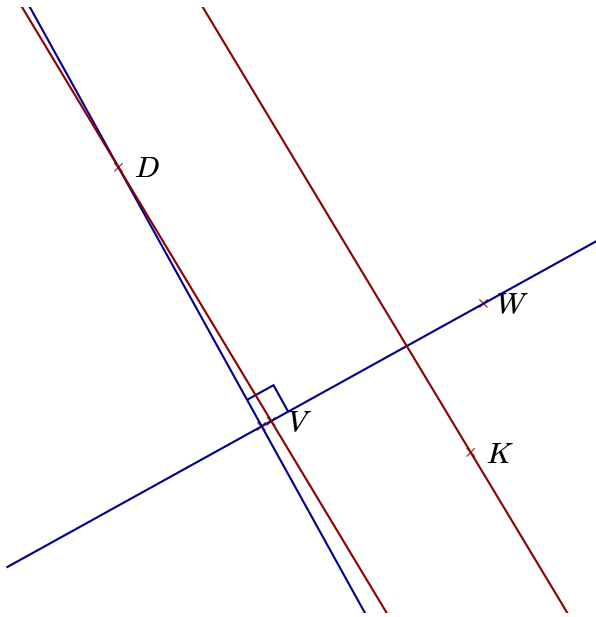
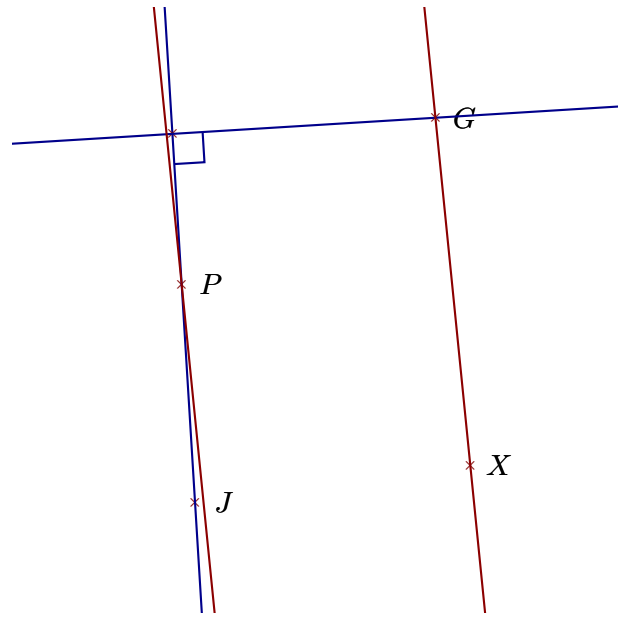


Corrigé de l'exercice 1

Réaliser les figures suivantes :



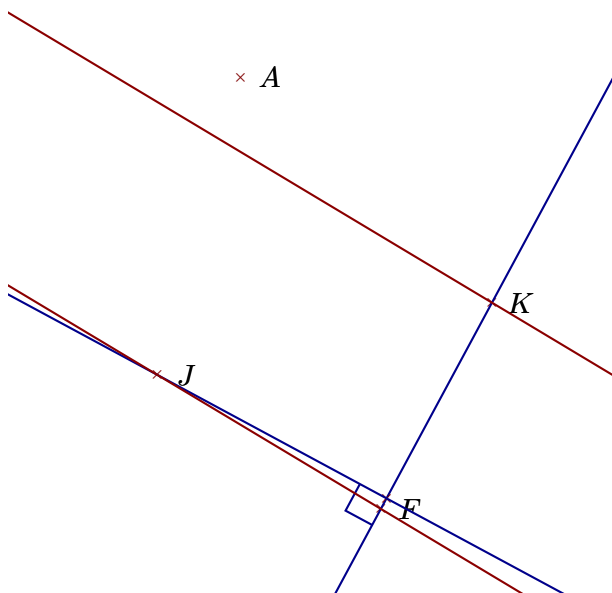
- 1. Tracer la droite perpendiculaire à la droite (WV) passant par D
- 2. Tracer la droite parallèle à la droite (DV) passant par K



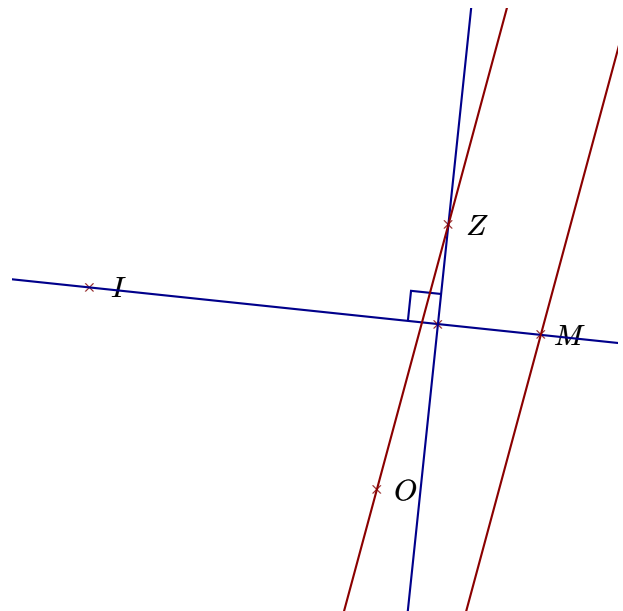
- 1. Tracer la droite parallèle à la droite (GX) passant par P
- 2. Tracer la droite perpendiculaire à la droite (JP) passant par G

Corrigé de l'exercice 2

Réaliser les figures suivantes :



- 1. Tracer la droite parallèle à la droite (FJ) passant par K
- 2. Tracer la droite perpendiculaire à la droite (FK) passant par J



- 1. Tracer la droite parallèle à la droite (ZO) passant par M
- 2. Tracer la droite perpendiculaire à la droite (IM) passant par Z