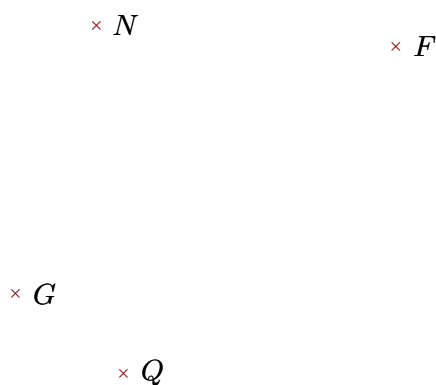
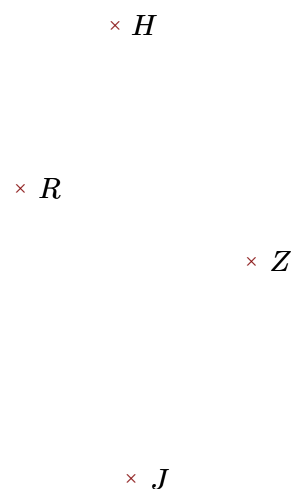


Exercice 1

Réaliser les figures suivantes :



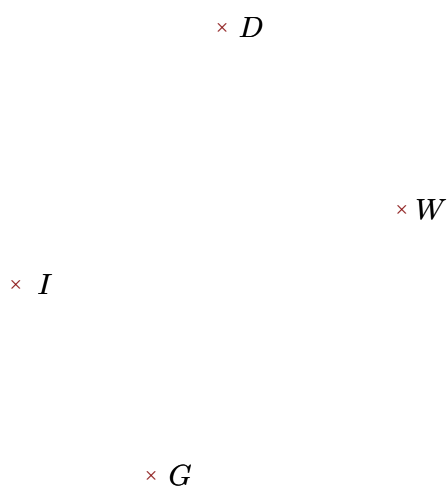
- 1. Tracer la droite perpendiculaire à la droite (GN) passant par F
- 2. Tracer la droite parallèle à la droite (FN) passant par Q




- 1. Tracer la droite perpendiculaire à la droite (JZ) passant par H
- 2. Tracer la droite parallèle à la droite (JR) passant par H

Exercice 2

Réaliser les figures suivantes :



- 1. Tracer la droite parallèle à la droite (WI) passant par D
- 2. Tracer la droite perpendiculaire à la droite (GW) passant par D



- 1. Tracer la droite perpendiculaire à la droite (DQ) passant par H
- 2. Tracer la droite parallèle à la droite (HD) passant par T