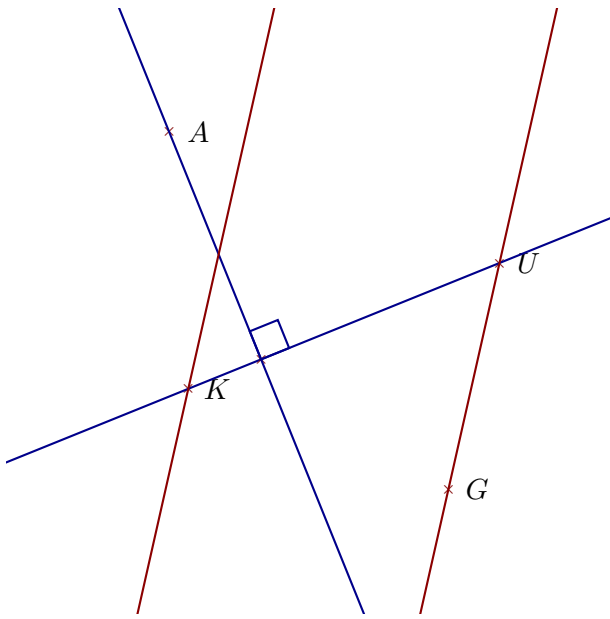
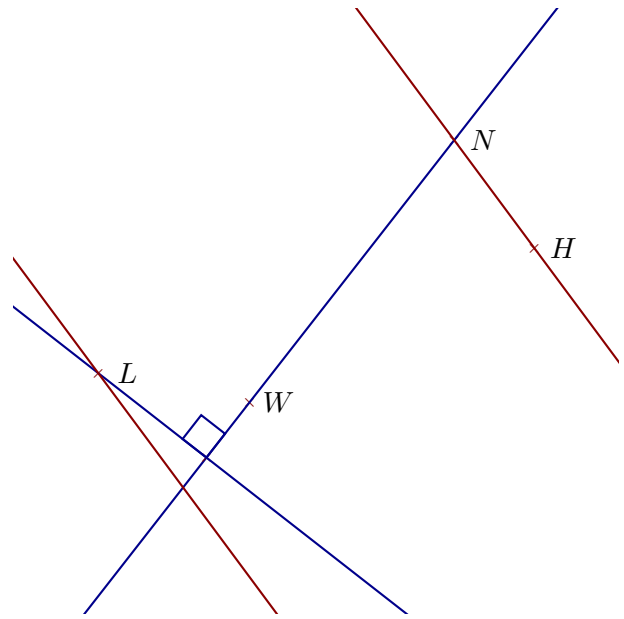


Corrigé de l'exercice 1

Réaliser les figures suivantes :



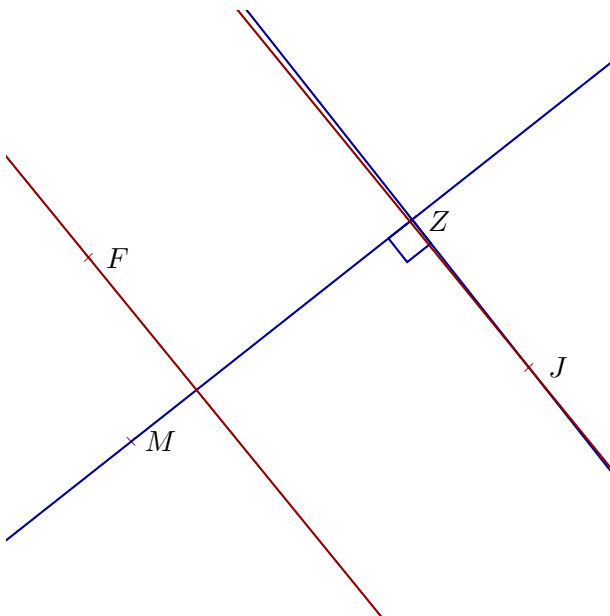
- 1. Tracer la droite parallèle à la droite (UG) passant par K
- 2. Tracer la droite perpendiculaire à la droite (UK) passant par A



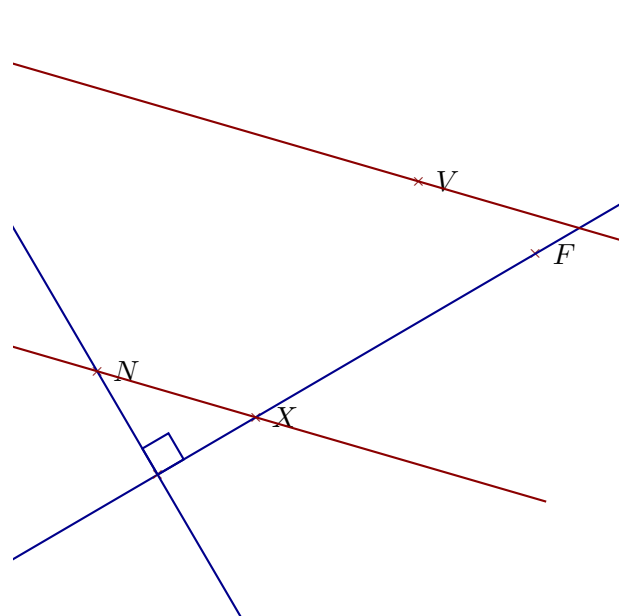
- 1. Tracer la droite parallèle à la droite (NH) passant par L
- 2. Tracer la droite perpendiculaire à la droite (WN) passant par L

Corrigé de l'exercice 2

Réaliser les figures suivantes :



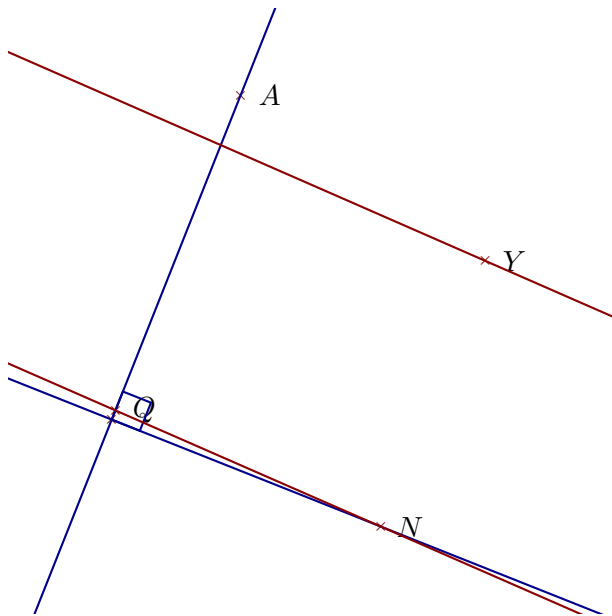
- 1. Tracer la droite perpendiculaire à la droite (MZ) passant par J
- 2. Tracer la droite parallèle à la droite (ZJ) passant par F



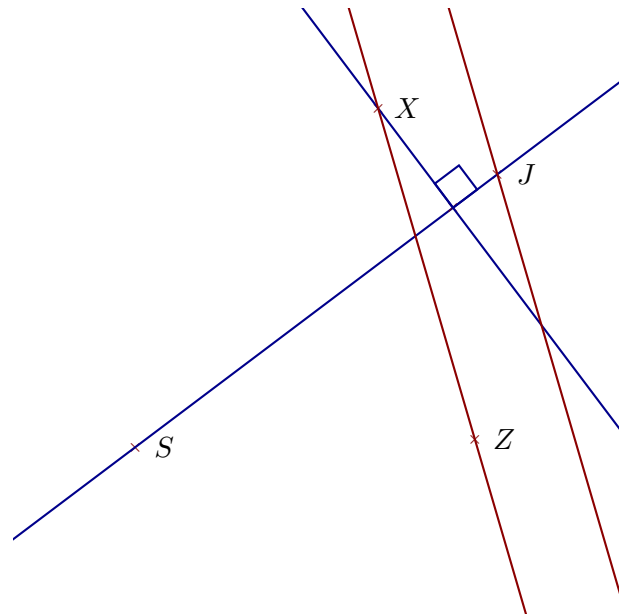
- 1. Tracer la droite perpendiculaire à la droite (XF) passant par N
- 2. Tracer la droite parallèle à la droite (XN) passant par V

Corrigé de l'exercice 3

Réaliser les figures suivantes :



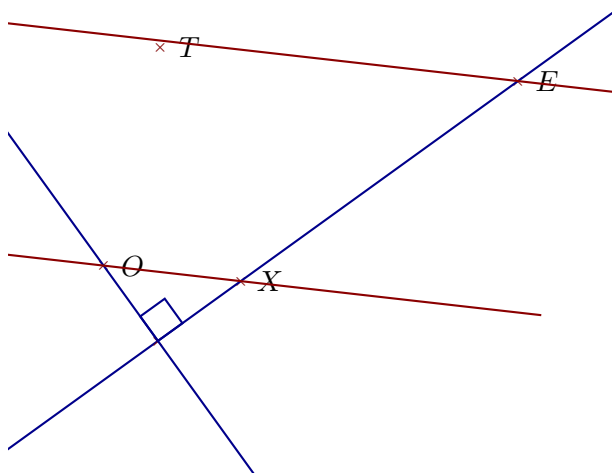
- 1. Tracer la droite parallèle à la droite (QN) passant par Y
- 2. Tracer la droite perpendiculaire à la droite (QA) passant par N



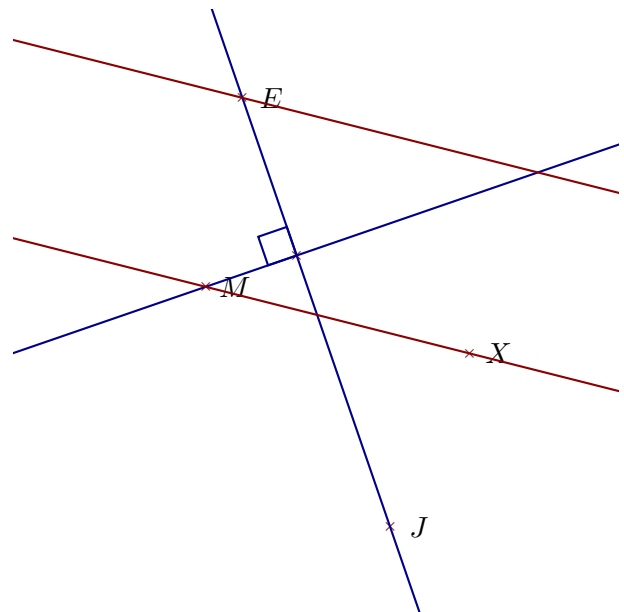
- 1. Tracer la droite parallèle à la droite (ZX) passant par J
- 2. Tracer la droite perpendiculaire à la droite (JS) passant par X

Corrigé de l'exercice 4

Réaliser les figures suivantes :



- 1. Tracer la droite parallèle à la droite (XO) passant par E
- 2. Tracer la droite perpendiculaire à la droite (EX) passant par O



- 1. Tracer la droite parallèle à la droite (MX) passant par E
- 2. Tracer la droite perpendiculaire à la droite (EJ) passant par M