

Devoir commun de Mathématiques

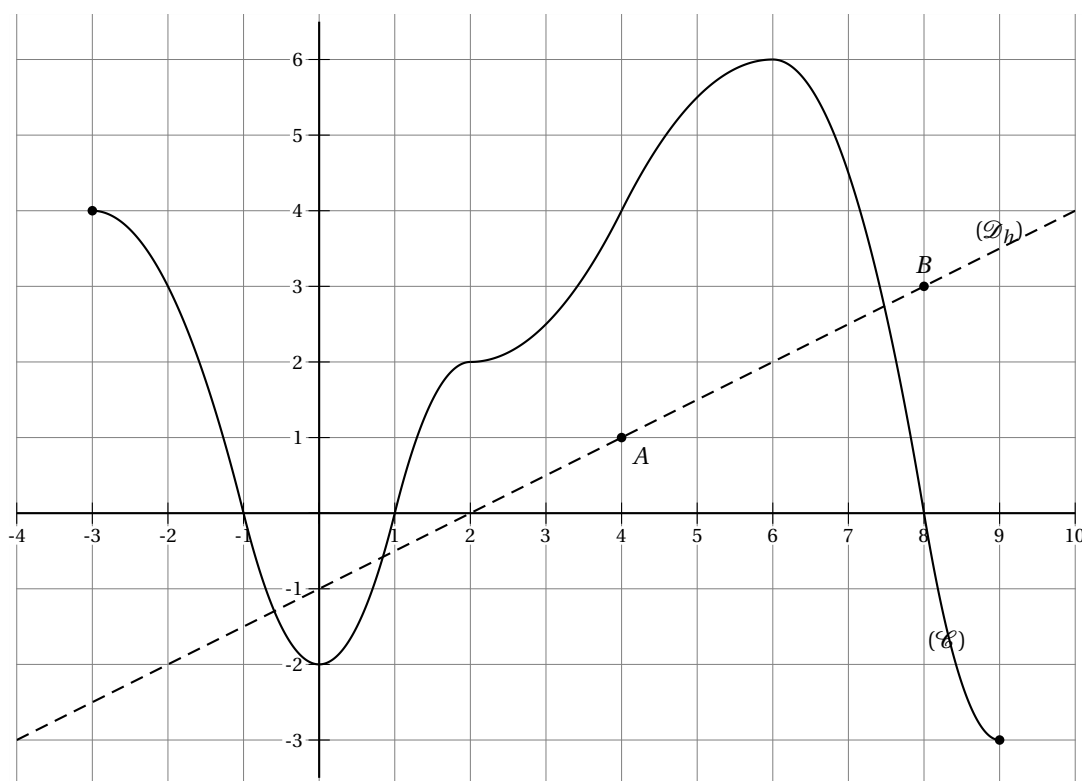
Classes de Seconde

Durée : 2 heures

EXERCICE 1

(6 points)

La courbe (\mathcal{C}) indiquée ci-dessous est la représentation graphique d'une fonction f définie sur $[-3 ; 9]$.



1. Par lecture graphique, répondre aux questions suivantes :

a) Compléter le tableau de valeurs ci-dessous :

Valeurs de x	-3	-2	4	...
Valeurs de $f(x)$	6

b) Résoudre l'équation $f(x) = 4$ et l'inéquation $f(x) \leq 2$.

c) Déterminer le tableau de signes de $f(x)$.

d) Dresser le tableau de variations de f sur l'intervalle $[-3 ; 9]$. Préciser le maximum et le minimum de f sur $[-3 ; 9]$.

2. On note g la fonction définie sur \mathbb{R} par : $g(x) = -0,2x + 5,2$.

a) Tracer la représentation graphique de g dans le même repère que celle de f .

b) Résoudre graphiquement l'inéquation $f(x) \geq g(x)$.

3. La droite représentée en trait pointillé est la représentation graphique d'une fonction affine h .

Elle passe par les points $A(4 ; 1)$ et $B(8 ; 3)$.

Déterminer l'expression donnant $h(x)$ en fonction de x .

EXERCICE 2**(2,5 points)**On donne le tableau de variation d'une fonction f définie sur $[-10 ; 10]$

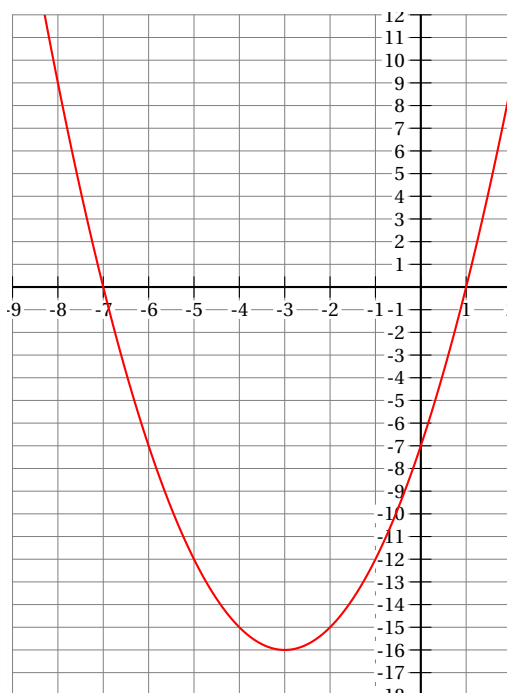
x	-10	-7	-1	0	4	6	10
$f(x)$	0,01	2	0	-5	0	3	1

- Indiquer à l'aide d'un tableau le signe de $f(x)$.
- Pour chacune des affirmations suivantes, dire si elle est vraie, fausse ou si le tableau ne permet pas de savoir. (justifier chaque réponse)

- a) $f(1) < f(3)$; b) $f(-1,5) \geq 0$; c) $f(-6) \leq 1,5$; d) $f(7) < f(8)$.

EXERCICE 3**(5 points)**

- Développer et réduire l'expression $f(x) = (x+3)^2 - 16$.
- Factoriser l'expression $f(x) = (x+3)^2 - 16$.
- On note f la fonction définie sur \mathbb{R} par $f(x) = (x+3)^2 - 16$ et on note (\mathcal{C}_f) sa représentation graphique dans un repère orthogonal.



L'affirmation « l'image d'un nombre négatif est un nombre négatif » est-elle vraie ? Justifier la réponse .

4. On admet que $f(x)$ peut s'écrire sous l'une des trois formes

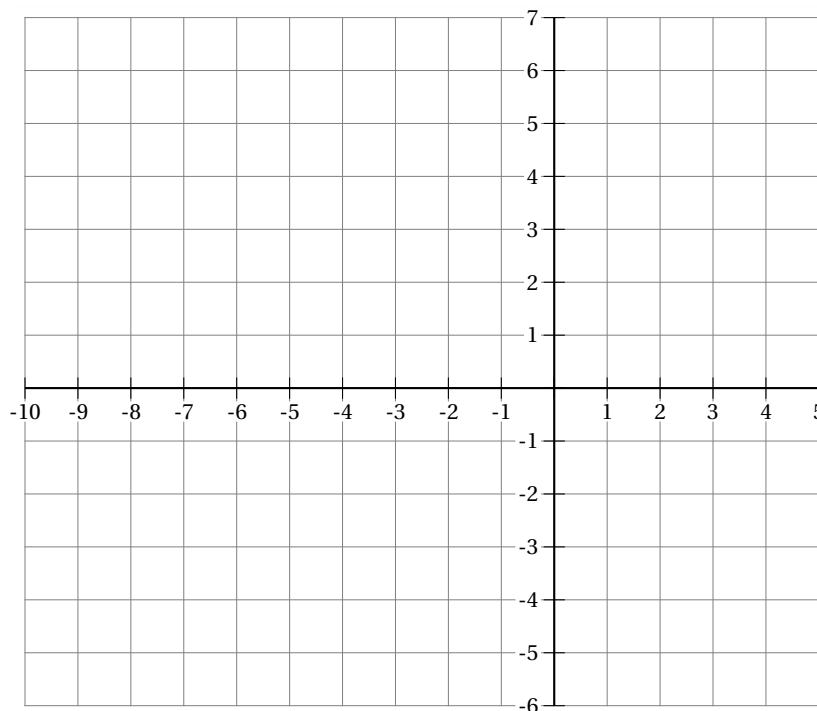
- $f(x) = (x+3)^2 - 16$ (forme canonique) ;
- $f(x) = x^2 + 6x - 7$ (forme développée) ;
- $f(x) = (x-1)(x+7)$ (forme factorisée) ;

En utilisant l'expression la plus adaptée :

- Calculer $f(-5)$.
 - Résoudre l'équation $f(x) = 0$.
 - Résoudre l'inéquation $f(x) \geq 0$.
- Indication** : on pourra utiliser un tableau de signes .
- Résoudre l'équation $f(x) = -7$.

EXERCICE 4**(5 points)**

1. Placer dans le repère (O, I, J) orthonormé les points $A(3; 2)$, $B(-1; 3)$ et $C(1; -2)$.



2. Sans calcul :

- a) Placer ensuite les points D et E tels que $\vec{AD} = 3\vec{AB}$ et $\vec{BE} = 2\vec{AC}$.
 b) Tracer un représentant \vec{u} du vecteur $2\vec{AB} + \vec{AC}$ et lire ses coordonnées.

3. Par le calcul :

- a) Déterminer par le calcul les coordonnées du vecteur \vec{AB} .
 b) S'en servir pour déterminer par le calcul les coordonnées du point D .
 c) Déterminer par le calcul, les coordonnées du vecteur $2\vec{AB} + \vec{AC}$.

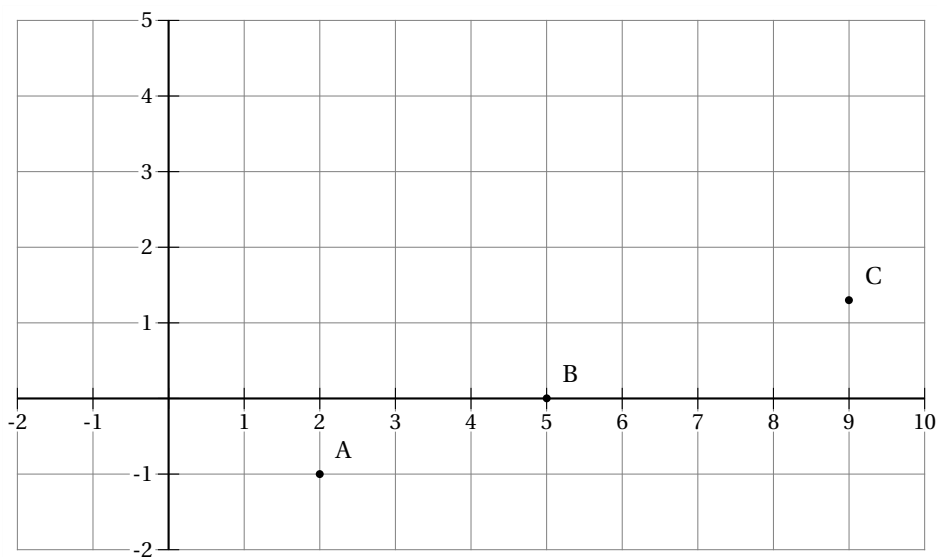
4. On veut placer un point K tel que $\vec{AK} + 3\vec{BK} = \vec{0}$.

- a) Montrer (en utilisant la relation de Chasles) que $\vec{AK} = \frac{3}{4}\vec{AB}$.
 b) Placer le point K .

EXERCICE 5**(3 points)**

On se place dans un repère orthonormé (O, I, J) .

1. On considère les points de coordonnées $A(2; -1)$, $B(5; 0)$ et $C(9; 1,3)$.



Sont-ils alignés ?

2. On place désormais le point $D(1; 2)$.

Déterminer l'abscisse x du point $E(x; 4)$ tel que $ABED$ soit un trapèze (dont les côtés parallèles sont (AB) et (ED)).

3. On se demande si le trapèze est rectangle (c'est-à-dire si ADE est un triangle rectangle).

On admet que $DE = 2\sqrt{10}$ et $AE = 5\sqrt{2}$.

Calculer AD et conclure.