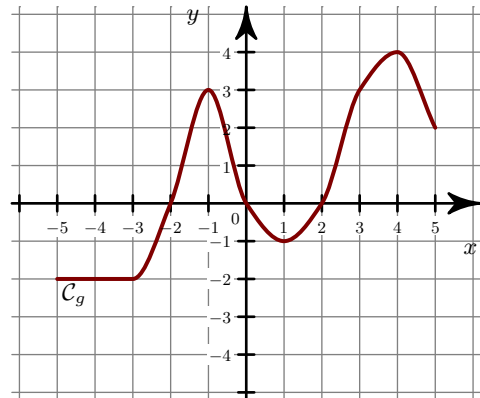
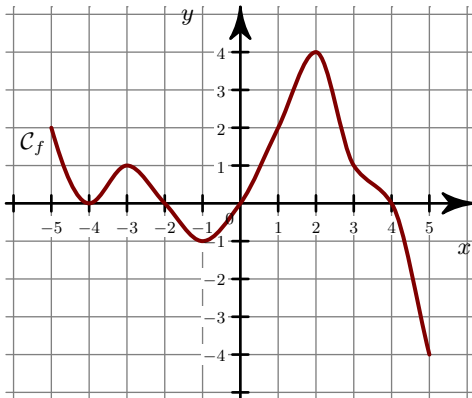
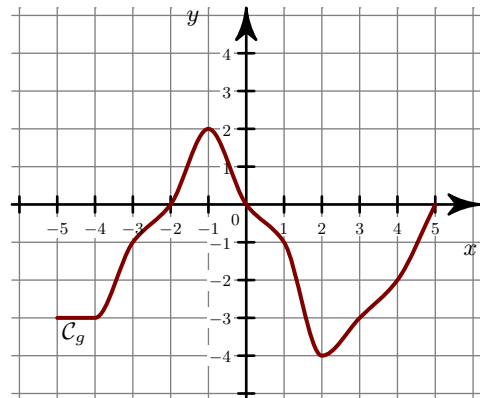
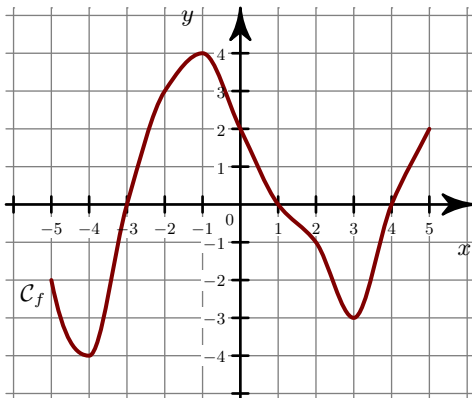


Exercice 1

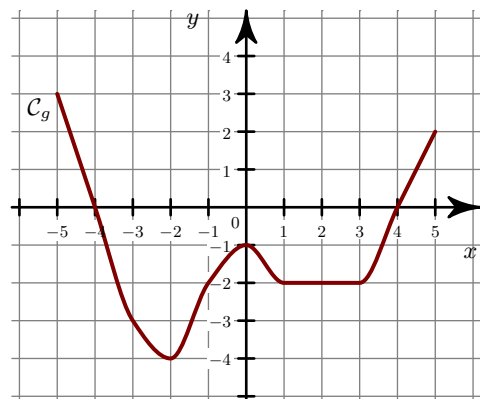
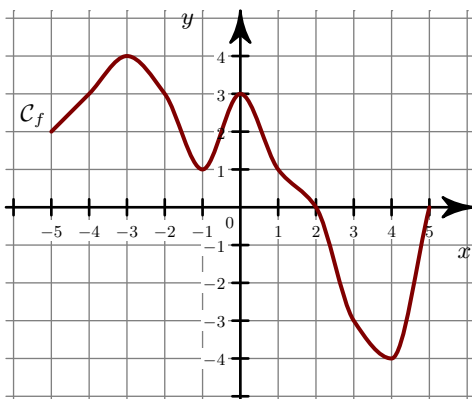
- 1. Quel est le sens de variation de la fonction f ? Répondre par une phrase en précisant les intervalles.
 ►2. Tracer les tableaux de variation des fonctions f et g .

**Exercice 2**

- 1. Quel est le sens de variation de la fonction f ? Répondre par une phrase en précisant les intervalles.
 ►2. Tracer les tableaux de variation des fonctions f et g .

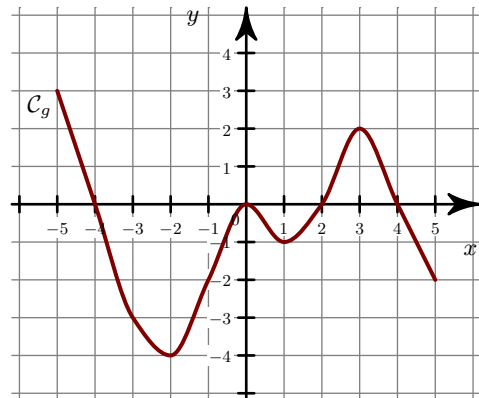
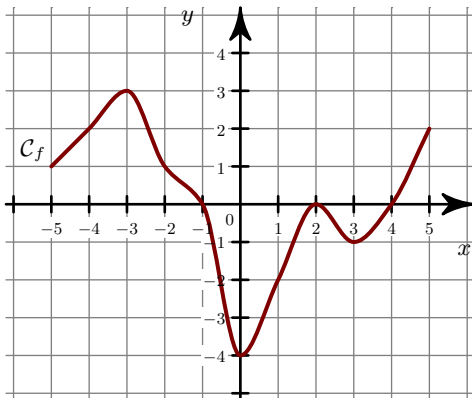
**Exercice 3**

- 1. Quel est le sens de variation de la fonction f ? Répondre par une phrase en précisant les intervalles.
 ►2. Tracer les tableaux de variation des fonctions f et g .

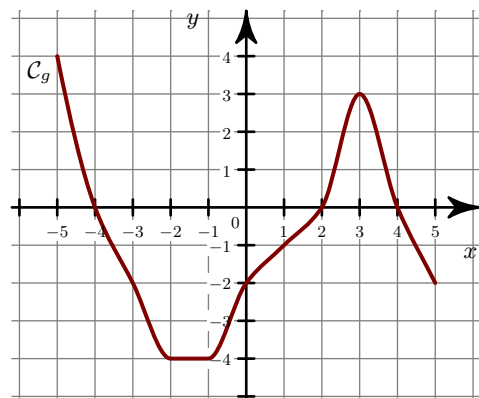
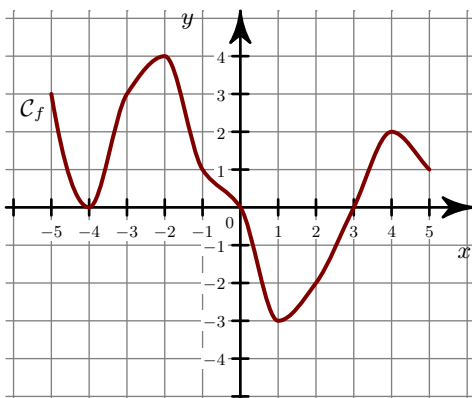


Exercice 4

- 1. Quel est le sens de variation de la fonction f ? Répondre par une phrase en précisant les intervalles.
 ►2. Tracer les tableaux de variation des fonctions f et g .

**Exercice 5**

- 1. Quel est le sens de variation de la fonction f ? Répondre par une phrase en précisant les intervalles.
 ►2. Tracer les tableaux de variation des fonctions f et g .

**Exercice 6**

- 1. Quel est le sens de variation de la fonction f ? Répondre par une phrase en précisant les intervalles.
 ►2. Tracer les tableaux de variation des fonctions f et g .

