

**Corrigé de l'exercice 1**

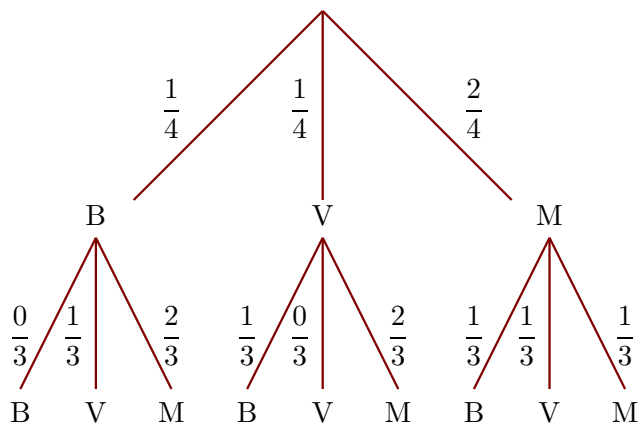
Dans une urne, il y a 1 boule bleue (B), 1 boule verte (V) et 2 boules marrons (M), indiscernables au toucher. On tire successivement et sans remise deux boules.

- 1. Quelle est la probabilité de tirer une boule verte au premier tirage ?

Il y a 4 boules dans l'urne dont 1 boule verte.

La probabilité de tirer une boule verte au premier tirage est donc  $\frac{1}{4}$ .

- 2. Construire un arbre des probabilités décrivant l'expérience aléatoire.



- 3. Quelle est la probabilité que la première boule soit marron et la deuxième soit verte ?

On utilise l'arbre construit précédemment.

$$p(M, V) = \frac{2}{4} \times \frac{1}{3} = \frac{2}{12}$$

La probabilité que la première boule soit marron et la deuxième soit verte est égale à  $\frac{2}{12}$ .

- 4. Quelle est la probabilité que la deuxième boule soit bleue ?

On note  $(?, B)$  l'évènement : la deuxième boule tirée est bleue.

$$p(?, B) = p(B, B) + p(V, B) + p(M, B) = \frac{1}{4} \times \frac{0}{3} + \frac{1}{4} \times \frac{1}{3} + \frac{2}{4} \times \frac{1}{3} = \frac{3}{12}$$

**Corrigé de l'exercice 2**

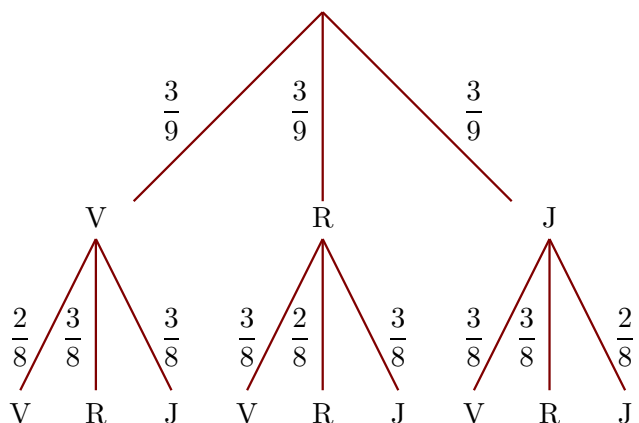
Dans une urne, il y a 3 boules vertes (V), 3 boules rouges (R) et 3 boules jaunes (J), indiscernables au toucher. On tire successivement et sans remise deux boules.

- 1. Quelle est la probabilité de tirer une boule rouge au premier tirage ?

Il y a 9 boules dans l'urne dont 3 boules rouges.

La probabilité de tirer une boule rouge au premier tirage est donc  $\frac{3}{9}$ .

- 2. Construire un arbre des probabilités décrivant l'expérience aléatoire.



- 3. Quelle est la probabilité que la première boule soit jaune et la deuxième soit rouge ?

On utilise l'arbre construit précédemment.

$$p(J, R) = \frac{3}{9} \times \frac{3}{8} = \frac{9}{72}$$

La probabilité que la première boule soit jaune et la deuxième soit rouge est égale à  $\frac{9}{72}$ .

- 4. Quelle est la probabilité que la deuxième boule soit verte ?

On note  $(?, V)$  l'évènement : la deuxième boule tirée est verte.

$$p(?, V) = p(V, V) + p(R, V) + p(J, V) = \frac{3}{9} \times \frac{2}{8} + \frac{3}{9} \times \frac{3}{8} + \frac{3}{9} \times \frac{3}{8} = \frac{24}{72}$$

### Corrigé de l'exercice 3

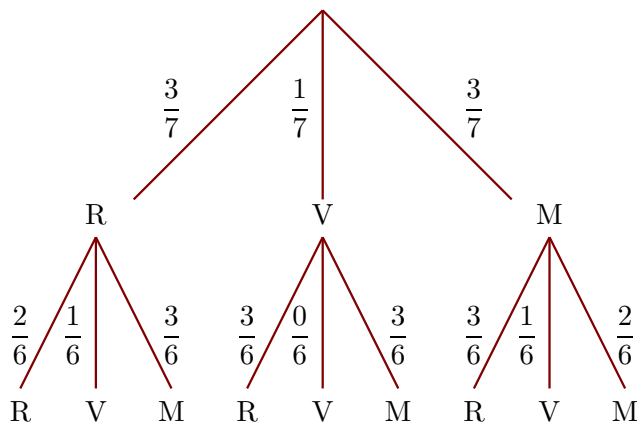
Dans une urne, il y a 3 boules rouges (R), 1 boule verte (V) et 3 boules marrons (M), indiscernables au toucher. On tire successivement et sans remise deux boules.

- 1. Quelle est la probabilité de tirer une boule verte au premier tirage ?

Il y a 7 boules dans l'urne dont 1 boule verte.

La probabilité de tirer une boule verte au premier tirage est donc  $\frac{1}{7}$ .

- 2. Construire un arbre des probabilités décrivant l'expérience aléatoire.



- 3. Quelle est la probabilité que la première boule soit marron et la deuxième soit verte ?

On utilise l'arbre construit précédemment.

$$p(M, V) = \frac{3}{7} \times \frac{1}{6} = \frac{3}{42}$$

La probabilité que la première boule soit marron et la deuxième soit verte est égale à  $\frac{3}{42}$ .

- 4. Quelle est la probabilité que la deuxième boule soit rouge ?

On note  $(?, R)$  l'évènement : la deuxième boule tirée est rouge.

$$p(?, R) = p(R, R) + p(V, R) + p(M, R) = \frac{3}{7} \times \frac{2}{6} + \frac{1}{7} \times \frac{3}{6} + \frac{3}{7} \times \frac{3}{6} = \frac{18}{42}$$

### Corrigé de l'exercice 4

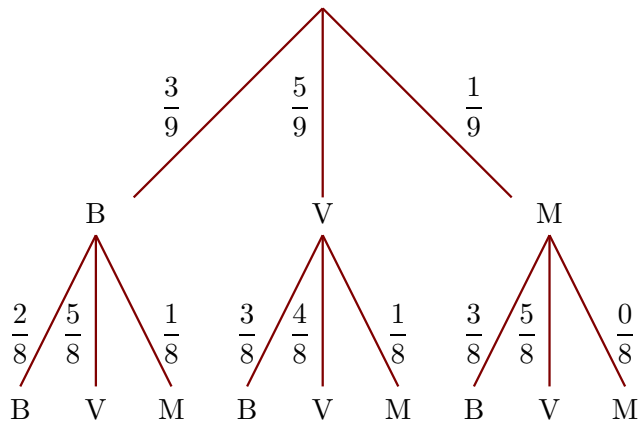
Dans une urne, il y a 3 boules bleues (B), 5 boules vertes (V) et 1 boule marron (M), indiscernables au toucher. On tire successivement et sans remise deux boules.

- 1. Quelle est la probabilité de tirer une boule verte au premier tirage ?

Il y a 9 boules dans l'urne dont 5 boules vertes.

La probabilité de tirer une boule verte au premier tirage est donc  $\frac{5}{9}$ .

- 2. Construire un arbre des probabilités décrivant l'expérience aléatoire.



- 3. Quelle est la probabilité que la première boule soit marron et la deuxième soit verte ?

On utilise l'arbre construit précédemment.

$$p(M, V) = \frac{1}{9} \times \frac{5}{8} = \frac{5}{72}$$

La probabilité que la première boule soit marron et la deuxième soit verte est égale à  $\frac{5}{72}$ .

- 4. Quelle est la probabilité que la deuxième boule soit bleue ?

On note  $(?, B)$  l'évènement : la deuxième boule tirée est bleue.

$$p(?, B) = p(B, B) + p(V, B) + p(M, B, ) = \frac{3}{9} \times \frac{2}{8} + \frac{5}{9} \times \frac{3}{8} + \frac{1}{9} \times \frac{3}{8} = \frac{24}{72}$$

### Corrigé de l'exercice 5

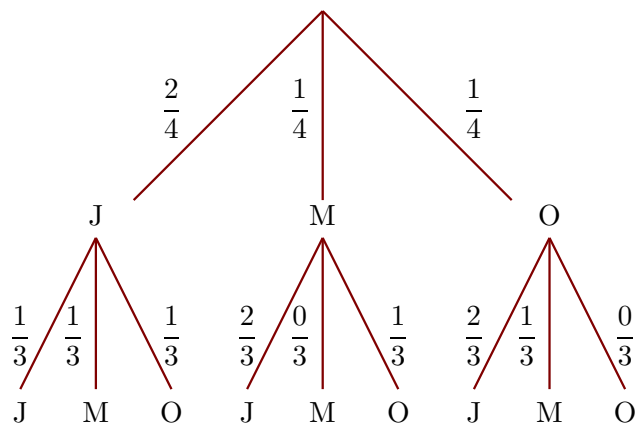
Dans une urne, il y a 2 boules jaunes (J), 1 boule marron (M) et 1 boule orange (O), indiscernables au toucher. On tire successivement et sans remise deux boules.

- 1. Quelle est la probabilité de tirer une boule marron au premier tirage ?

Il y a 4 boules dans l'urne dont 1 boule marron.

La probabilité de tirer une boule marron au premier tirage est donc  $\frac{1}{4}$ .

- 2. Construire un arbre des probabilités décrivant l'expérience aléatoire.



- 3. Quelle est la probabilité que la première boule soit orange et la deuxième soit marron ?

On utilise l'arbre construit précédemment.

$$p(O, M) = \frac{1}{4} \times \frac{1}{3} = \frac{1}{12}$$

La probabilité que la première boule soit orange et la deuxième soit marron est égale à  $\frac{1}{12}$ .

- 4. Quelle est la probabilité que la deuxième boule soit jaune ?

On note  $(?, J)$  l'évènement : la deuxième boule tirée est jaune.

$$p(?, J) = p(J, J) + p(M, J) + p(O, J, ) = \frac{2}{4} \times \frac{1}{3} + \frac{1}{4} \times \frac{2}{3} + \frac{1}{4} \times \frac{2}{3} = \frac{6}{12}$$