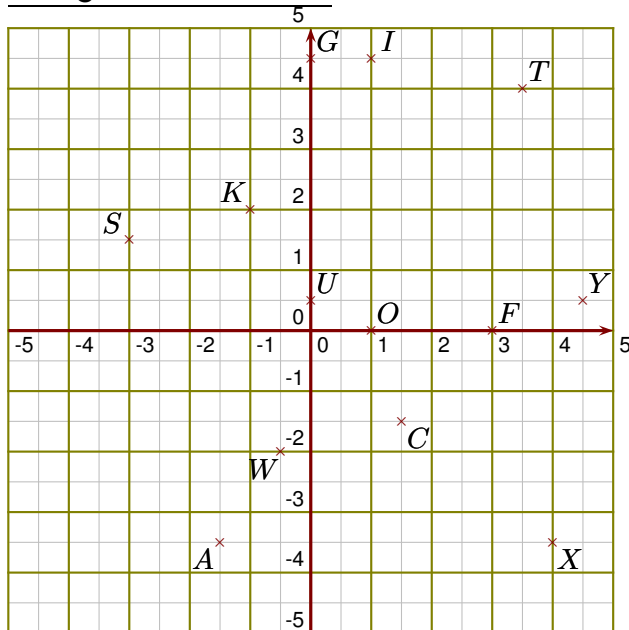
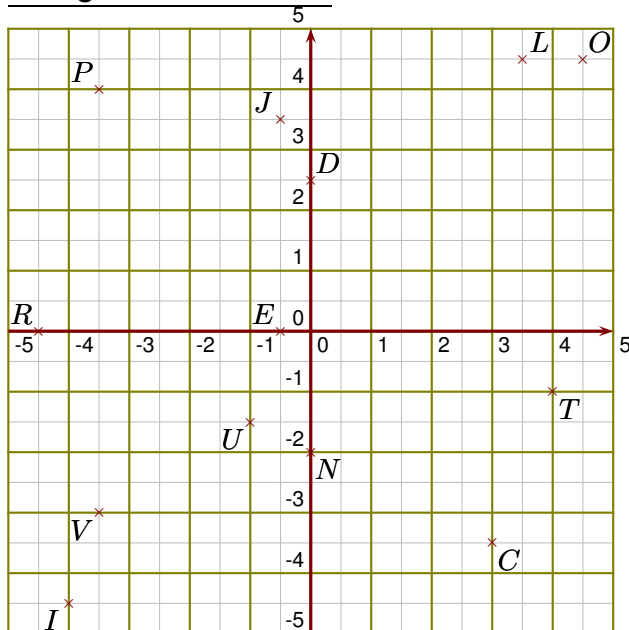


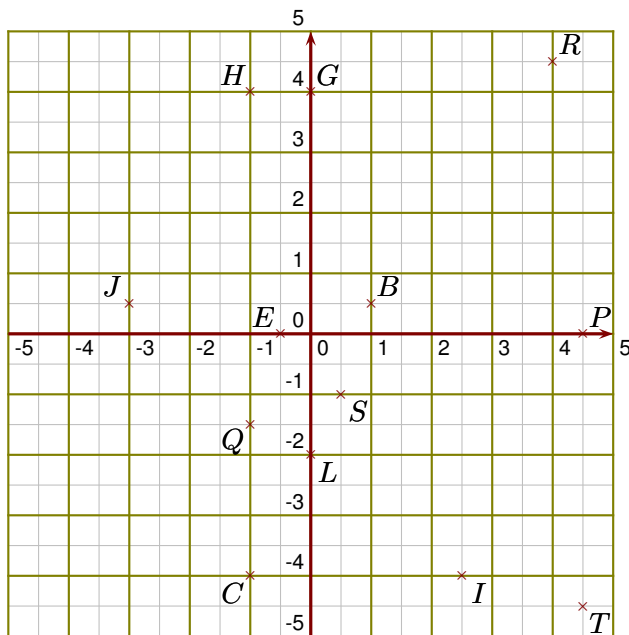
Corrigé de l'exercice 1

- 1. Donner les coordonnées des points A, C, F, G, I et K. Les coordonnées du point A sont $(-1,5 ; -3,5)$
 Les coordonnées du point C sont $(1,5 ; -1,5)$
 Les coordonnées du point F sont $(3 ; 0)$
 Les coordonnées du point G sont $(0 ; 4,5)$
 Les coordonnées du point I sont $(1 ; 4,5)$
 Les coordonnées du point K sont $(-1 ; 2)$
- 2. Placer dans le repère les points O, S, T, U, W et X de coordonnées respectives $(1 ; 0)$, $(-3 ; 1,5)$, $(3,5 ; 4)$, $(0 ; 0,5)$, $(-0,5 ; -2)$ et $(4 ; -3,5)$.
- 3. Placer dans le repère le point Y d'abscisse 4,5 et d'ordonnée 0,5

Corrigé de l'exercice 2

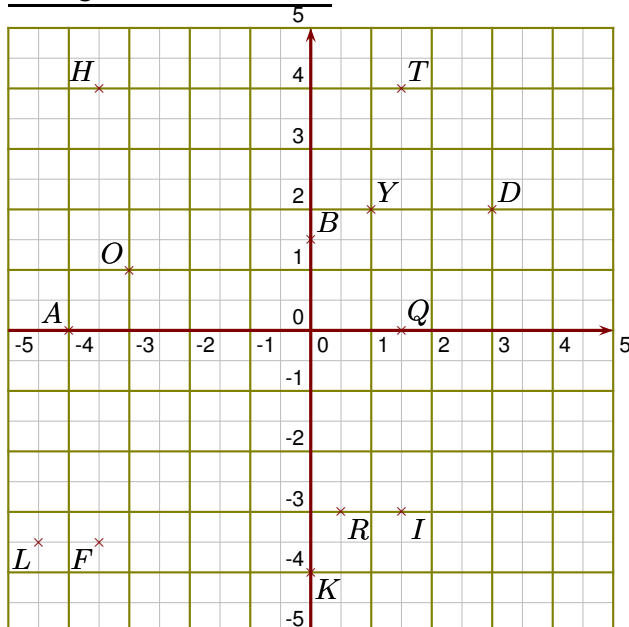
- 1. Donner les coordonnées des points C, D, E, I, J et L. Les coordonnées du point C sont $(3 ; -3,5)$
 Les coordonnées du point D sont $(0 ; 2,5)$
 Les coordonnées du point E sont $(-0,5 ; 0)$
 Les coordonnées du point I sont $(-4 ; -4,5)$
 Les coordonnées du point J sont $(-0,5 ; 3,5)$
 Les coordonnées du point L sont $(3,5 ; 4,5)$
- 2. Placer dans le repère les points N, O, P, R, T et U de coordonnées respectives $(0 ; -2)$, $(4,5 ; 4,5)$, $(-3,5 ; 4)$, $(-4,5 ; 0)$, $(4 ; -1)$ et $(-1 ; -1,5)$.
- 3. Placer dans le repère le point V d'ordonnée -3 et d'abscisse -3,5

Corrigé de l'exercice 3



- 1. Donner les coordonnées des points B, C, E, G, H et I. Les coordonnées du point B sont $(1 ; 0,5)$
Les coordonnées du point C sont $(-1 ; -4)$
Les coordonnées du point E sont $(-0,5 ; 0)$
Les coordonnées du point G sont $(0 ; 4)$
Les coordonnées du point H sont $(-1 ; 4)$
Les coordonnées du point I sont $(2,5 ; -4)$
- 2. Placer dans le repère les points J, L, P, Q, R et S de coordonnées respectives $(-3 ; 0,5)$, $(0 ; -2)$, $(4,5 ; 0)$, $(-1 ; -1,5)$, $(4 ; 4,5)$ et $(0,5 ; -1)$.
- 3. Placer dans le repère le point T d'ordonnée -4,5 et d'abscisse 4,5

Corrigé de l'exercice 4



- 1. Donner les coordonnées des points A, B, D, F, H et I. Les coordonnées du point A sont $(-4 ; 0)$
Les coordonnées du point B sont $(0 ; 1,5)$
Les coordonnées du point D sont $(3 ; 2)$
Les coordonnées du point F sont $(-3,5 ; -3,5)$
Les coordonnées du point H sont $(-3,5 ; 4)$
Les coordonnées du point I sont $(1,5 ; -3)$
- 2. Placer dans le repère les points K, L, O, Q, R et T de coordonnées respectives $(0 ; -4)$, $(-4,5 ; -3,5)$, $(-3 ; 1)$, $(1,5 ; 0)$, $(0,5 ; -3)$ et $(1,5 ; 4)$.
- 3. Placer dans le repère le point Y d'abscisse 1 et d'ordonnée 2