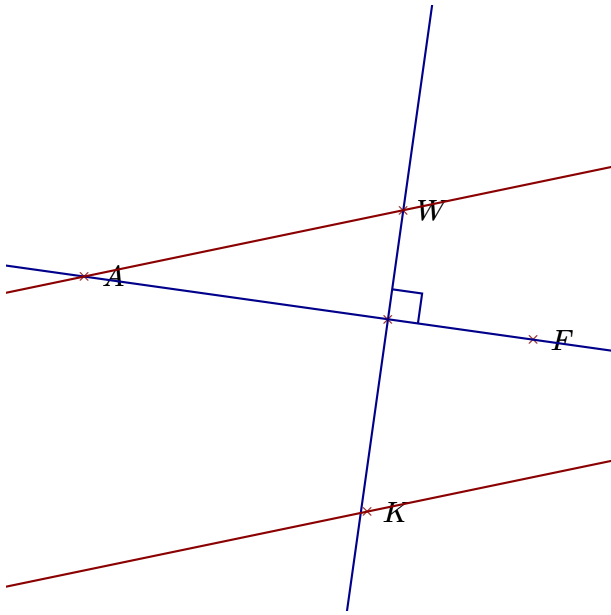
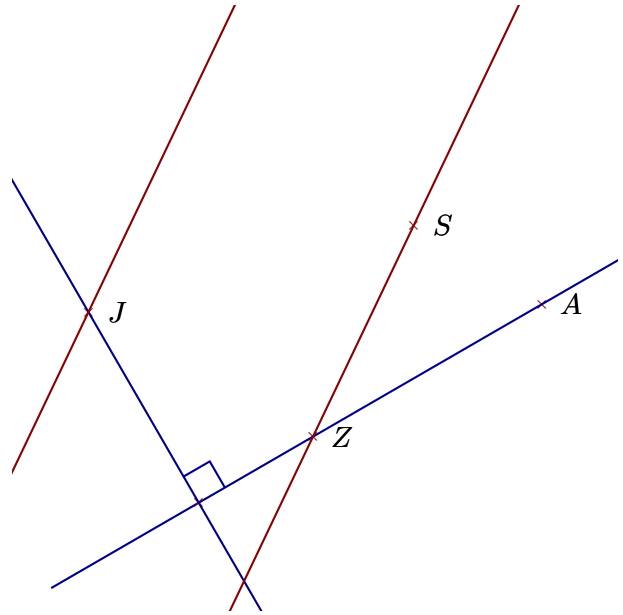


### Corrigé de l'exercice 1

Réaliser les figures suivantes :



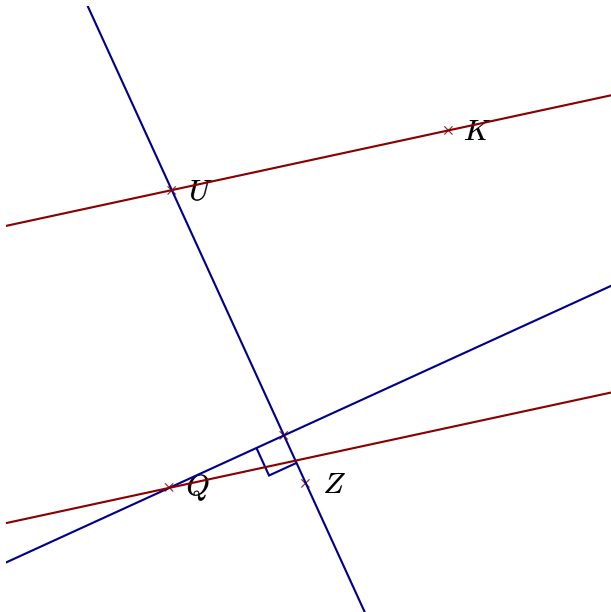
- 1. Tracer la droite parallèle à la droite  $(AW)$  passant par  $K$
- 2. Tracer la droite perpendiculaire à la droite  $(FA)$  passant par  $W$



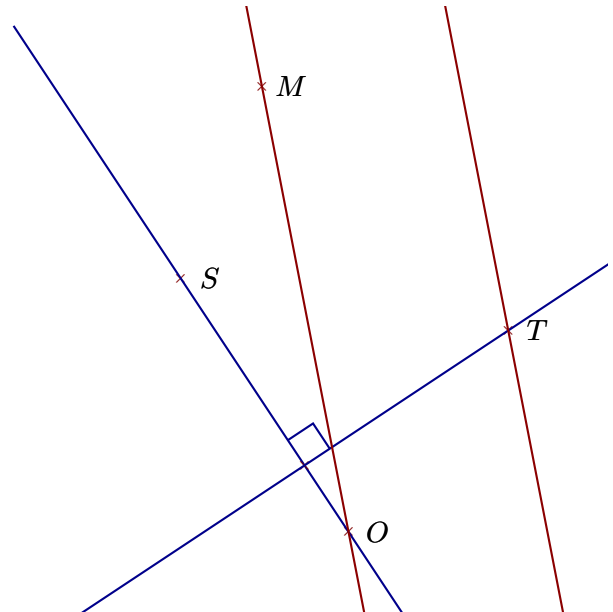
- 1. Tracer la droite parallèle à la droite  $(SZ)$  passant par  $J$
- 2. Tracer la droite perpendiculaire à la droite  $(ZA)$  passant par  $J$

### Corrigé de l'exercice 2

Réaliser les figures suivantes :



- 1. Tracer la droite perpendiculaire à la droite  $(ZU)$  passant par  $Q$
- 2. Tracer la droite parallèle à la droite  $(UK)$  passant par  $Q$



- 1. Tracer la droite perpendiculaire à la droite  $(SO)$  passant par  $T$
- 2. Tracer la droite parallèle à la droite  $(OM)$  passant par  $T$