



Exercice 1

Réaliser les figures suivantes :




- ▶1. Tracer la droite perpendiculaire à la droite (PR) passant par B
- ▶2. Tracer la droite parallèle à la droite (KR) passant par B



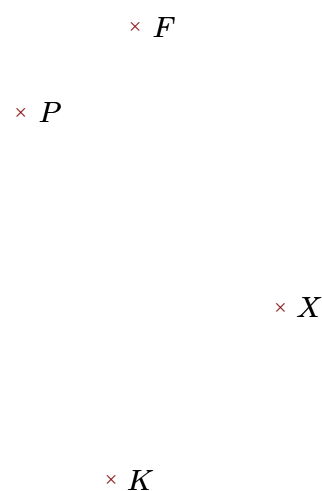
- ▶1. Tracer la droite parallèle à la droite (WC) passant par I
- ▶2. Tracer la droite perpendiculaire à la droite (IW) passant par Z

Exercice 2

Réaliser les figures suivantes :



- ▶1. Tracer la droite perpendiculaire à la droite (OH) passant par Z
- ▶2. Tracer la droite parallèle à la droite (ZD) passant par H



- ▶1. Tracer la droite parallèle à la droite (PX) passant par F
- ▶2. Tracer la droite perpendiculaire à la droite (FP) passant par K