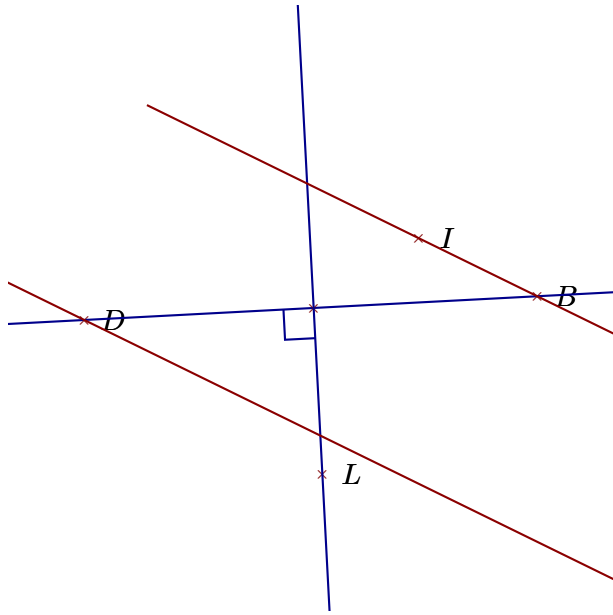
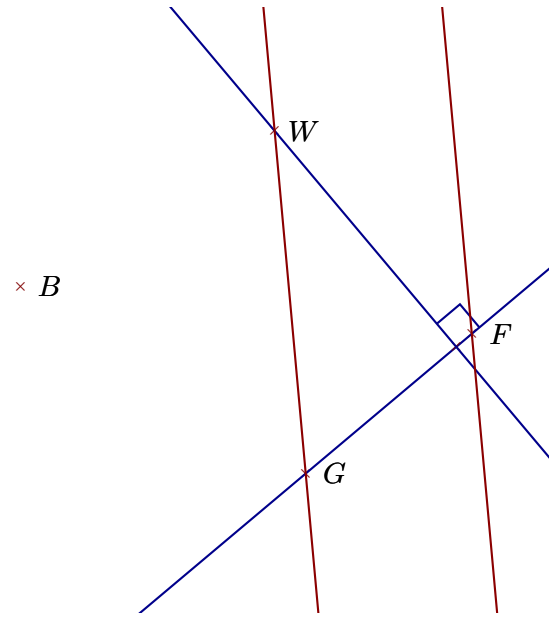


### Corrigé de l'exercice 1

Réaliser les figures suivantes :



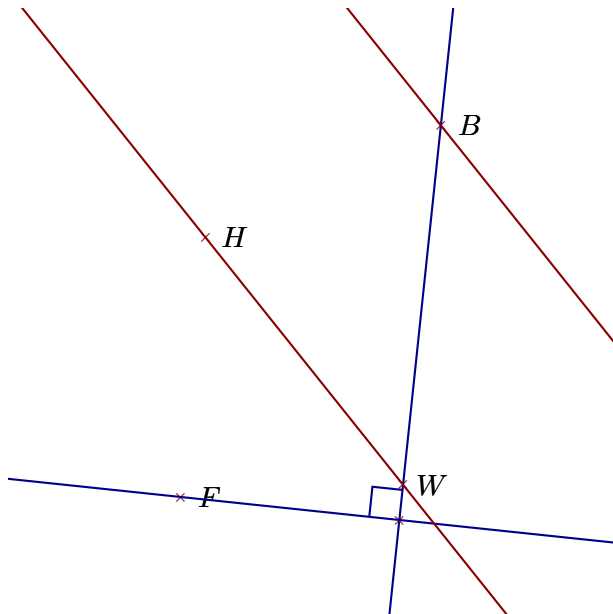
- 1. Tracer la droite perpendiculaire à la droite  $(DB)$  passant par  $L$
- 2. Tracer la droite parallèle à la droite  $(IB)$  passant par  $D$



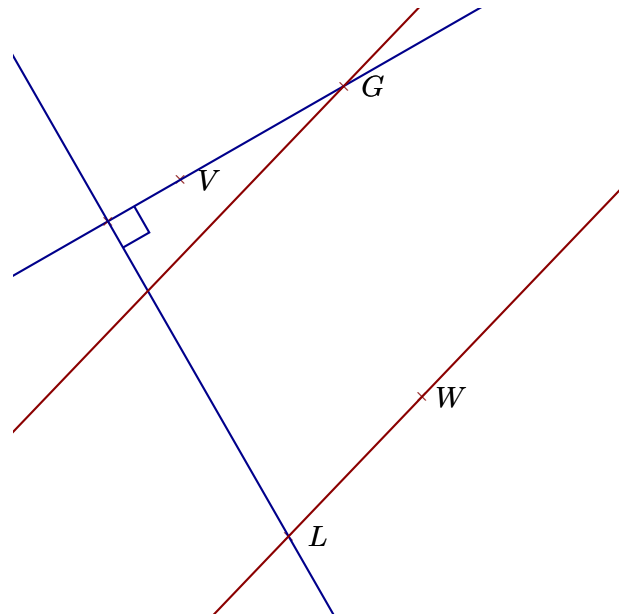
- 1. Tracer la droite perpendiculaire à la droite  $(FG)$  passant par  $W$
- 2. Tracer la droite parallèle à la droite  $(GW)$  passant par  $F$

### Corrigé de l'exercice 2

Réaliser les figures suivantes :



- 1. Tracer la droite perpendiculaire à la droite  $(WB)$  passant par  $F$
- 2. Tracer la droite parallèle à la droite  $(HW)$  passant par  $B$



- 1. Tracer la droite parallèle à la droite  $(LW)$  passant par  $G$
- 2. Tracer la droite perpendiculaire à la droite  $(VG)$  passant par  $L$