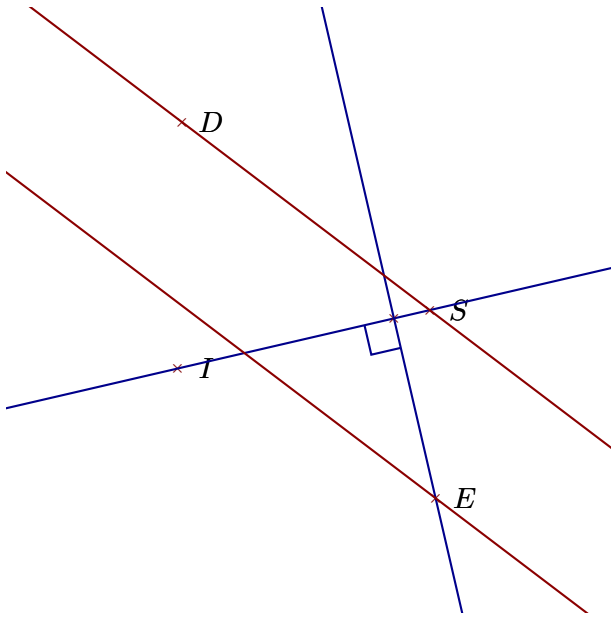
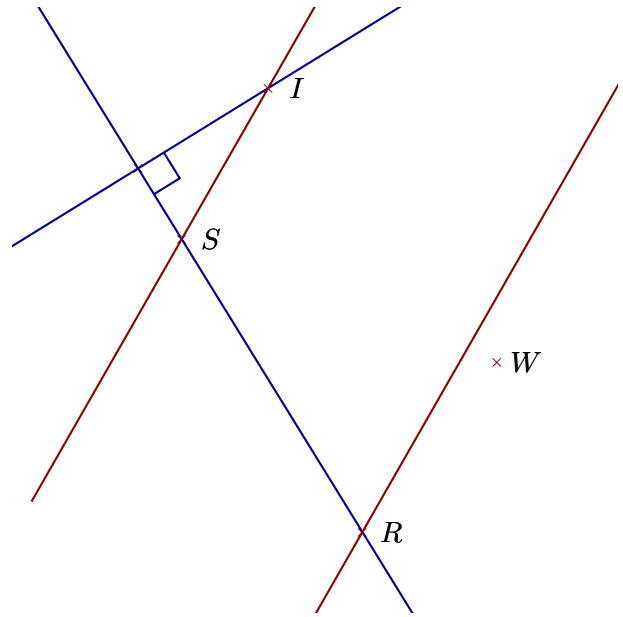


Corrigé de l'exercice 1

Réaliser les figures suivantes :



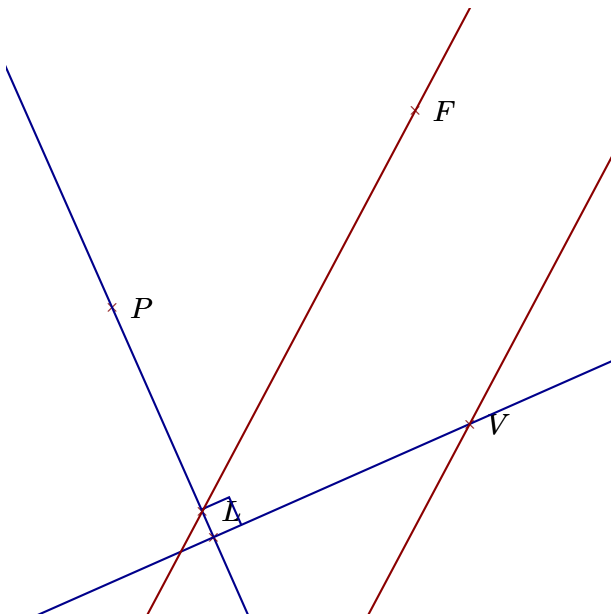
- 1. Tracer la droite perpendiculaire à la droite (IS) passant par E
- 2. Tracer la droite parallèle à la droite (SD) passant par E



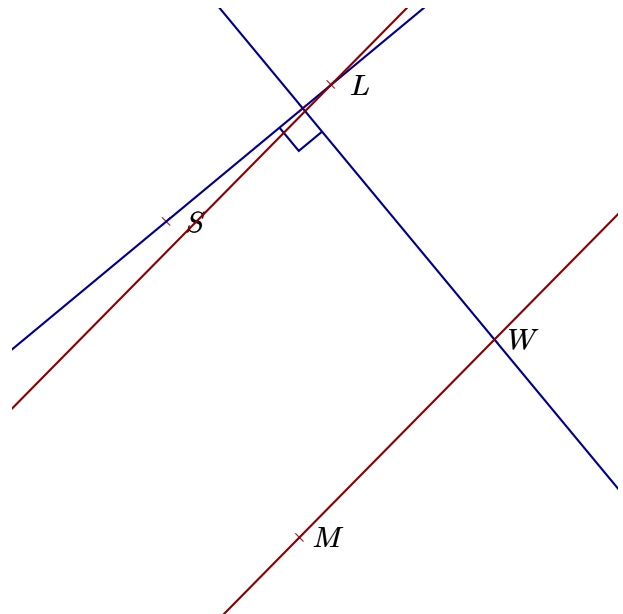
- 1. Tracer la droite parallèle à la droite (IS) passant par R
- 2. Tracer la droite perpendiculaire à la droite (RS) passant par I

Corrigé de l'exercice 2

Réaliser les figures suivantes :



- 1. Tracer la droite parallèle à la droite (LF) passant par V
- 2. Tracer la droite perpendiculaire à la droite (LP) passant par V



- 1. Tracer la droite perpendiculaire à la droite (SL) passant par W
- 2. Tracer la droite parallèle à la droite (WM) passant par L