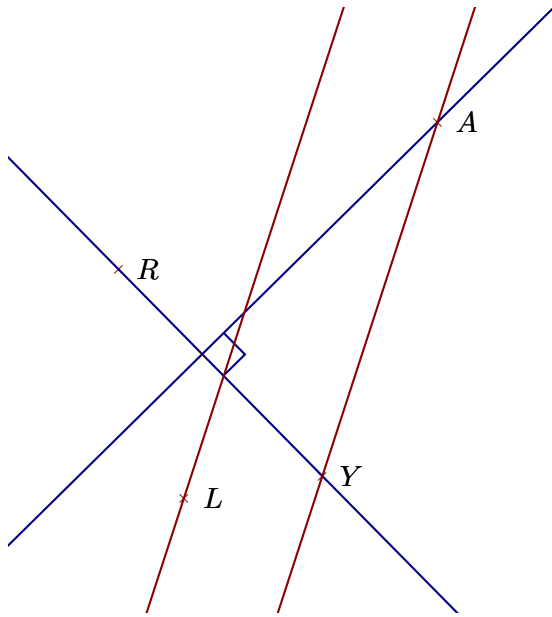
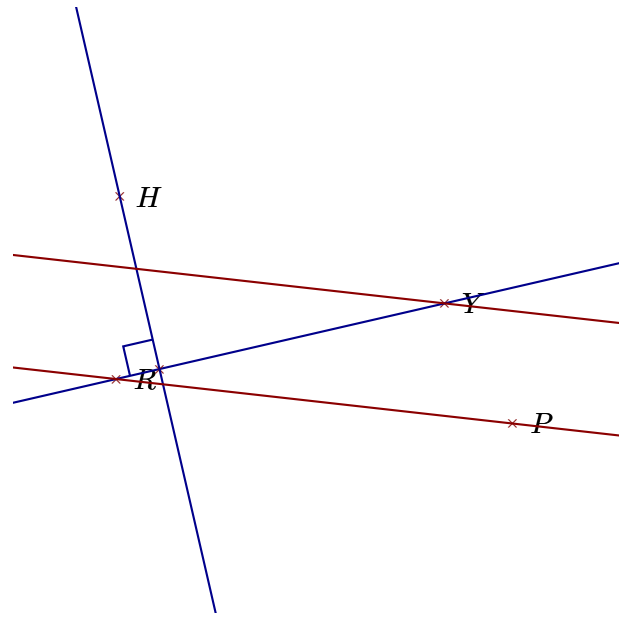


Corrigé de l'exercice 1

Réaliser les figures suivantes :



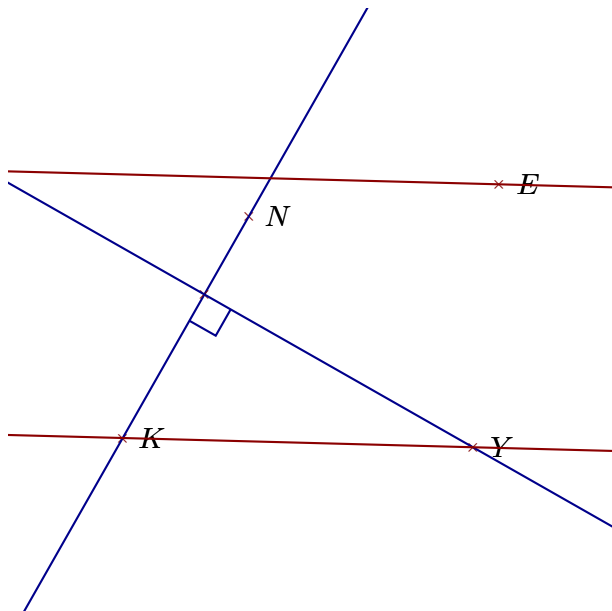
- 1. Tracer la droite parallèle à la droite (YA) passant par L
- 2. Tracer la droite perpendiculaire à la droite (YR) passant par A



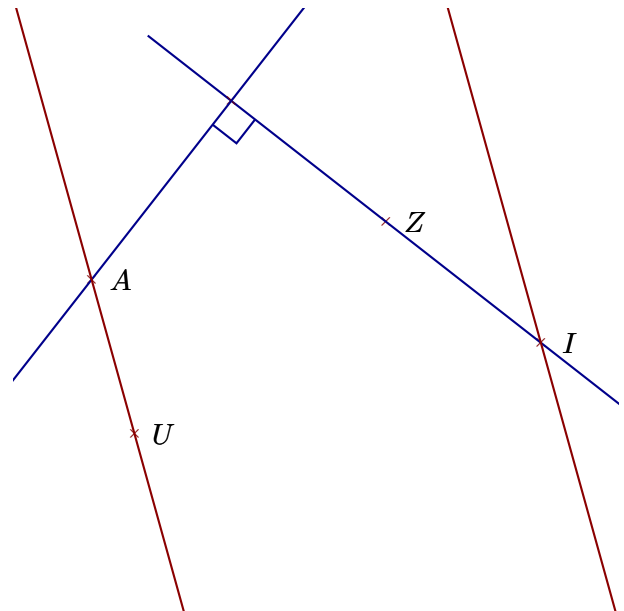
- 1. Tracer la droite parallèle à la droite (RP) passant par Y
- 2. Tracer la droite perpendiculaire à la droite (RY) passant par H

Corrigé de l'exercice 2

Réaliser les figures suivantes :



- 1. Tracer la droite parallèle à la droite (YK) passant par E
- 2. Tracer la droite perpendiculaire à la droite (KN) passant par Y



- 1. Tracer la droite parallèle à la droite (UA) passant par I
- 2. Tracer la droite perpendiculaire à la droite (ZI) passant par A