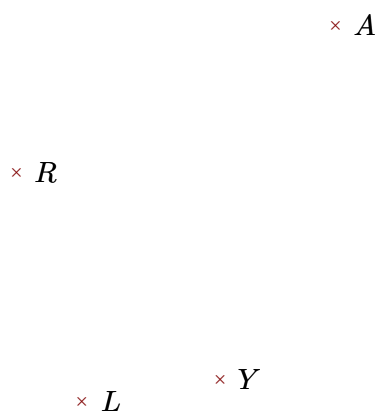


Exercice 1

Réaliser les figures suivantes :




- ▶1. Tracer la droite parallèle à la droite (YA) passant par L
- ▶2. Tracer la droite perpendiculaire à la droite (YR) passant par A




- ▶1. Tracer la droite parallèle à la droite (RP) passant par Y
- ▶2. Tracer la droite perpendiculaire à la droite (RY) passant par H

Exercice 2

Réaliser les figures suivantes :



- ▶1. Tracer la droite parallèle à la droite (YK) passant par E
- ▶2. Tracer la droite perpendiculaire à la droite (KN) passant par Y



- ▶1. Tracer la droite parallèle à la droite (UA) passant par I
- ▶2. Tracer la droite perpendiculaire à la droite (ZI) passant par A